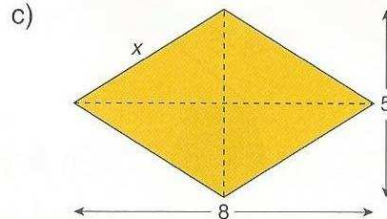
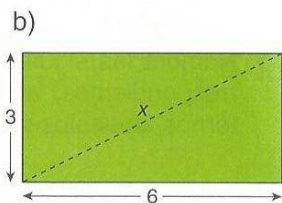
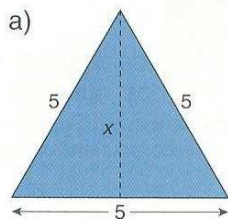
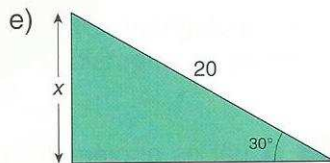
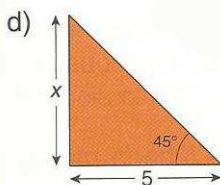
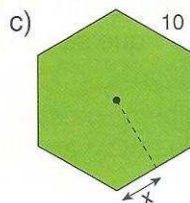
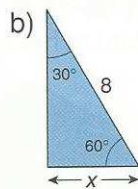
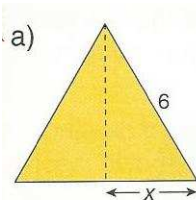


1.- Calcula el valor de x en cada uno de los siguientes polígonos:



2.- La diagonal de un rectángulo mide 10 cm y uno de los lados, 6 cm. Calcula su perímetro.

3.- Calcula el valor de x en cada uno de los siguientes polígonos:



4.- Una escalera de 5 m de larga está apoyada sobre una pared de forma que su extremo inferior se encuentra a 1,2 m de la misma. ¿Qué altura alcanza el extremo superior?

5.- Calcula el perímetro y el área de los siguientes polígonos:

